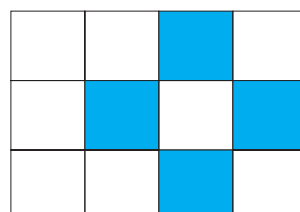
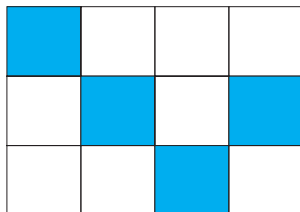
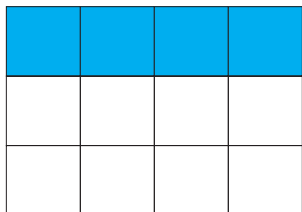




1

Σχεδιάζω μωσαϊκά.

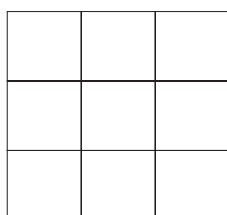
Η Άννα σχεδίασε ορθογώνια μωσαϊκά και χρωμάτισε ένα μέρος από κάθε μωσαϊκό με γαλάζιο χρώμα



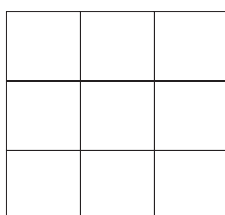
Στα παραπάνω μωσαϊκά τα γαλάζια πλακάκια είναι το του όλου.

Χρωμάτισε και εσύ στα παρακάτω μωσαϊκά:

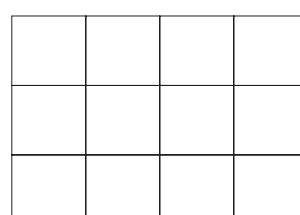
Το $\frac{1}{3}$



Το $\frac{2}{3}$



Το $\frac{3}{4}$



2


Χρωμάτισε τις μπάλες του κλόουν, ώστε να είναι:

Το $\frac{1}{8}$ πράσινες.

Τα $\frac{2}{8}$ κόκκινες.

Τα $\frac{3}{8}$ μπλε και οι υπόλοιπες κίτρινες.

Γράψε με κλάσμα πόσες είναι οι κίτρινες;





Οι μήνες και οι εποχές του χρόνου με κλάσματα



- Τι μέρος του χρόνου είναι ο Ιανουάριος;
- Τι μέρος του χρόνου είναι ο Ιούνιος και ο Ιούλιος;
- Τι μέρος του χειμώνα είναι ο Δεκέμβριος;
- Τι μέρος του χρόνου είναι η άνοιξη;



Τι κλάσμα αντιπροσωπεύει κάθε φορά το τμήμα AB;

