

ΟΝΟΜΑ: \_\_\_\_\_

## ΜΑΘΗΜΑΤΙΚΑ 3<sup>η</sup> ΕΝΟΤΗΤΑ

### Κεφ.21: Προσθετική ανάλυση αριθμών από το 6 μέχρι το 10

1. Γράφω τα ζευγαράκια των αριθμών **6**, **7**, **8**.



0	+	
1	+	
2	+	
3	+	
4	+	
5	+	
6	+	

0	+	
1	+	
2	+	
3	+	
4	+	
5	+	
6	+	
7	+	

0	+	
1	+	
2	+	
3	+	
4	+	
5	+	
6	+	
7	+	
8	+	

2. Γράφω τα ζευγαράκια των αριθμών **9**, **10**.



3. Κάνω τις παρακάτω προσθέσεις.

$2 + 4 = \square$

$6 + 2 = \square$

$5 + 4 = \square$

$5 + 3 = \square$

$3 + 6 = \square$

$6 + 4 = \square$

$7 + 2 = \square$

$2 + 8 = \square$

$8 + 2 = \square$

$4 + 4 = \square$

$4 + 5 = \square$

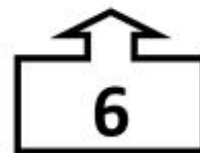

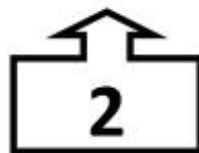
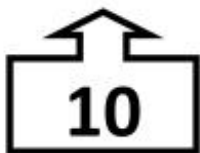



$7 + 3 = \square$

$9 + 1 = \square$

$4 + 3 = \square$

$5 + 5 = \square$

4. Ενώνω τα διπλά αθροίσματα.



Όπου δυσκολεύομαι,  
με βοηθούν τα ξυλάκια  
μου..!

